


Афінський стратег



1. До вас, як до військового стратега Афін дійшла звістка про прибуття пораненого в бою воїна Філіппіда. Він повідомив про перемогу греків у битві з персами вигукнувши: «Радійте, ми перемогли!» й тут же помер. Назву місця битви він не назвав, але у його руці ви знайшли лист в якому побачили зашифровану назву міста.

Вирішіть ребус, аби дізнатися назву славетного міста



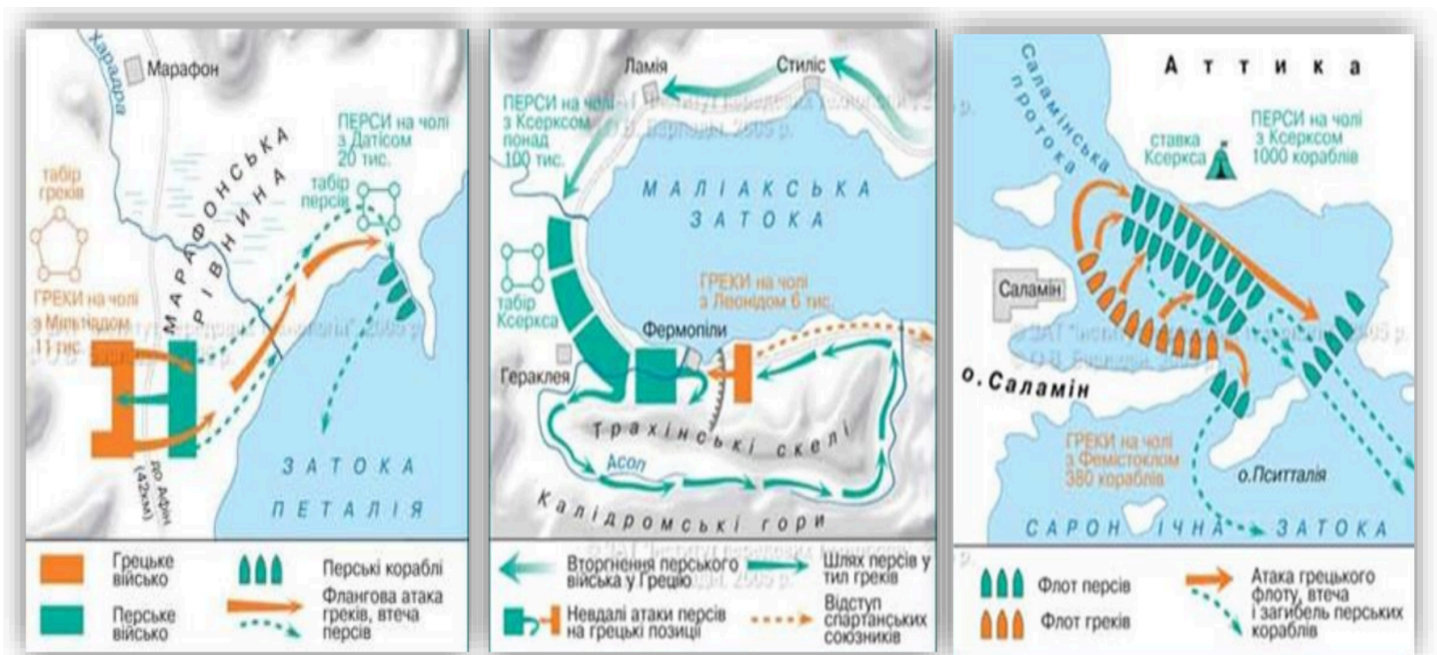
2. У листі також зберігся опис битви. Прочитайте його і оберіть літеру, якою позначена карта з подіями описаному в уривку листа.

“Битва розпочалась вранці 12 вересня 490 року до н. е. зі стрімкої атаки греків. Вони пробігли відстань, що розділяла їх від персів на полі бою і вдарили усім фронтом одночасно. Грецький центр, під командуванням Фемістокла і Арістіда, був персами розбитий, однак успіх на флангах дозволив грекам відкинути супротивника, якого вони не стали переслідувати, а, перешикувавшись, вдарили у тил перським загонам, що прорвались центром, оточили їх і повністю знищили. Це посіяло паніку у ряди персів, які кинулися до берега, щоб повантажитись на кораблі.”

а)

б)

в)



3. У 480 р. до н.е. е. військо перського царя Ксеркса почало вторгнення до Греції. Спроба 300 спартанців на чолі з царем Леонідом зупинити персів у Фермопільській ущелині закінчилася невдачею . Перси прорвалися в центральну Грецію, зайняли і зруйнували Афіни. Жителів міста встигли перед цим евакуювати на найближчий острів Саламін, але до нього вже наближається перський флот.


В цій критичній для греків ситуації було вирішено звернутися за порадою до Дельфійського оракула - віщунки Піфії. Вона могла передбачати майбутнє, але всі її поради були дуже нечіткими і щоб отримати від них користь потрібно їх правильно розтлумачити. Піфія дала грекам раду: «ховатися за дерев'яними стінами».

Проаналізуйте ситуацію біля о. Саламін та допоможіть грекам розтлумачити раду Оракула. Який вибір забезпечить перемогу греків чому?

а) створити стіну з списів проти перського війська;



б) подувати на схилах берегової лінії захисний дерев'яний мур;



в) заманити супротивників у лісову місцевість;



г) побудувати могутній флот з трієр;

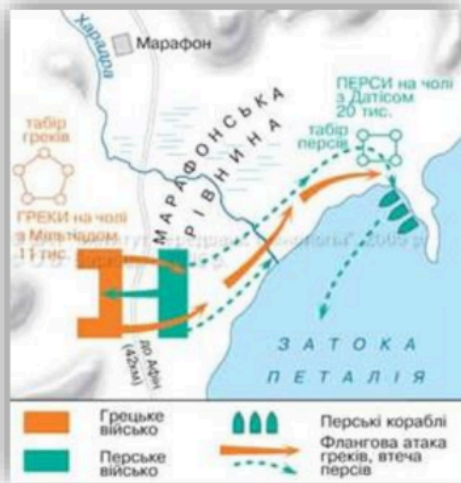


4. Якою літерою позначена карта, яка відображає обрану вами стратегію для Саламінської битви?

а)

б)

в)



5. Висловіть свою думку: Чому перевага персів у кількості та величині кораблів стала причиною їхньої поразки у Саламінській битві?

Прес метод

Учні заповнюють встановлений зразок.

Я вважаю, що _____

(висловіть, свою думку, поясніть, у чому полягає ваша точка зору)

Тому, що _____

(наведіть причину появи своєї думки)

Наприклад _____

(докази факти)

Висновки

_____ тому _____

(узагальніть свою думку, зробіть висновок)